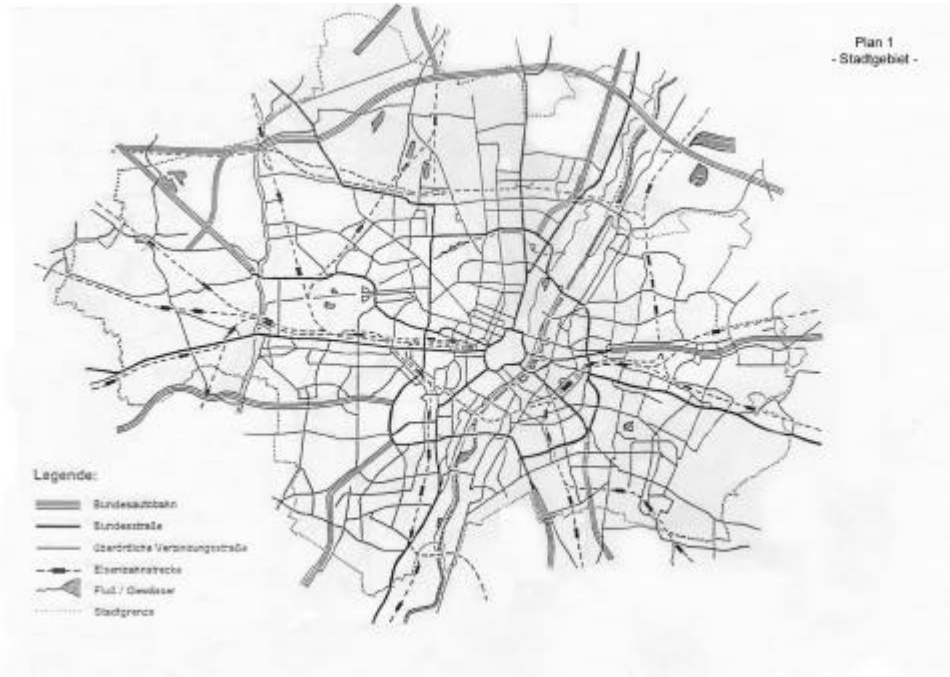


**Plan 1 – Stadtgebiet – (DIN A 4)
Markierungsaufgabe**



Aufgabe 1

	Straßen
A	Therese-Giehse-Allee
B	Sudetendeutsche Str.
C	Eversbuschstr.
D	Humboldtstr.

Bitte die jeweilige Straße eindeutig mit dem entsprechenden Buchstaben bezeichnen.

Aufgabe 2

	Stadtteile
X	Laim
Y	Waldtrudering
Z	Obermenzing

Bitte das jeweilige Zentrum durch einen Kreis markieren und diesen mit dem entsprechenden Buchstaben bezeichnen.

Aufgabe 3

	Fahrtziele
1	Aubing S-Bahnhof
2	Holiday Inn Süd
3	Hotel Königin Elisabeth

Bitte die genaue Lage des jeweiligen Fahrtzieles mit der entsprechenden Ziffer bezeichnen.

Die richtige Lösung dieser Aufgabe ergibt **10 Punkte**

**Plan 2 – Innenstadt – (DIN A 4)
Markierungsaufgabe**



Aufgabe 1

	Straßen
A	Prannerstr.
B	Corneliusbrücke
C	Lerchenfeldstr.
D	Baaderstr.

Bitte die jeweilige Straße eindeutig mit dem entsprechenden Buchstaben bezeichnen.

Aufgabe 2

	Fahrtziele
1	Hotel Wallis
2	Arbeitsamt
3	Regent Hotel
4	Volksbad

Bitte die genaue Lage des jeweiligen Fahrtzieles mit der entsprechenden Ziffer bezeichnen.

Die richtige Lösung dieser Aufgabe ergibt **2 x 4 Punkte = 8 Punkte**

Plan 3 – Region – (DIN A 3) Markierungsaufgabe

Aufgabe 1

	Nahziele
A	Gauting
B	Unterhaching
C	Hohenbrunn
D	Eching
E	Lohhof

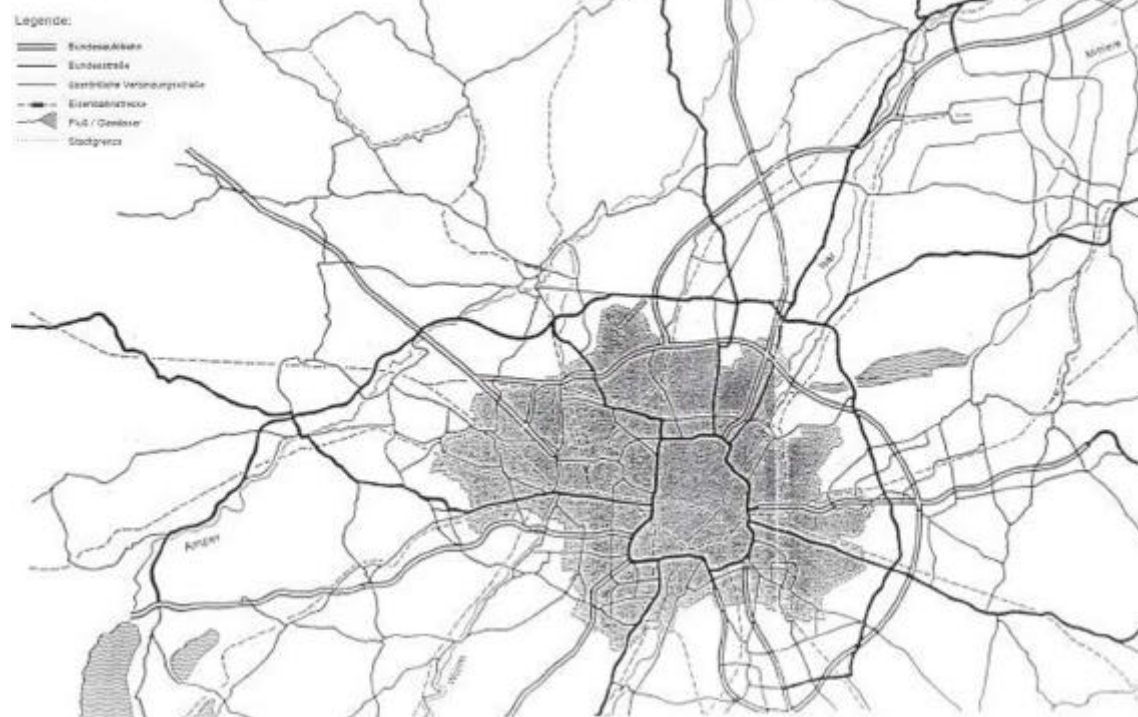
Bitte die jeweilige Ortsmitte mit dem entsprechenden Buchstaben bezeichnen.

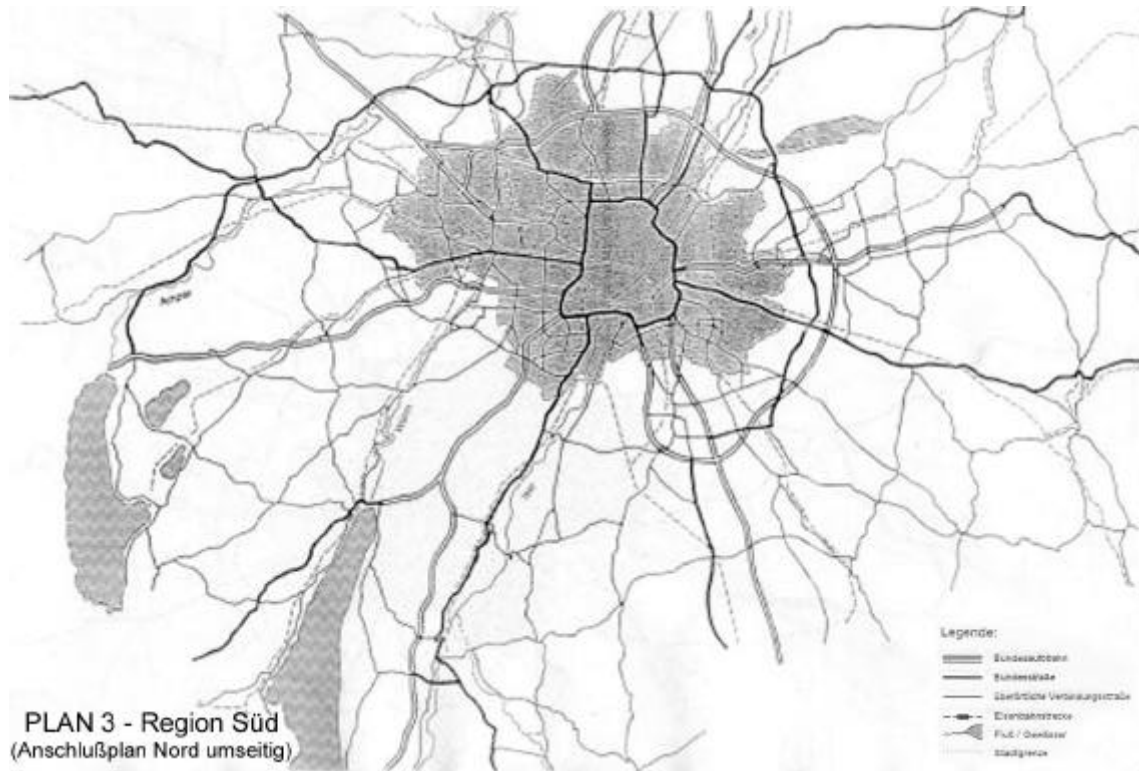
Aufgabe 2

	Fahrtziele
1	Krankenh. Kempfenhausen
2	Zulassungsstelle
3	Mövenpick Airport
4	KZ-Gedenkstätte
5	Gewerbegebiet Puchheim

Bitte die genaue Lage des jeweiligen Fahrtzieles mit der entsprechenden Ziffer bezeichnen.

PLAN 3 - Region Nord
Anschlußplan Süd umseitig





Die richtige Lösung dieser Aufgabe ergibt **2 x 5 Punkte = 10 Punkte**

Blatt A – Plätze

Welche Straßen überqueren die nachgenannten Münchner Plätze oder gehen von diesen ab? Ihre Aufgabe ist es, zu jeder Frage zwei richtige Antworten zu geben.

A Esperantoplatz _____

1 _____

2 _____

B Georg-Hirth-Platz _____

1 _____

2 _____

C Ratzingerplatz _____

1 _____

2 _____

D Christoph-von-Gluck-Platz _____

1 _____

2 _____

Die richtige Lösung dieser Aufgabe ergibt **4 x 2 Punkte = 8 Punkte**

Blatt A – Stadtteile

In welchem Münchner Stadtteil befinden sich die nachfolgend genannten Plätze und Straßen?

1 **Entenbachstraße** _____

2 **Krauss-Maffei-Straße** _____

3 **Schlüsselbergstraße** _____

Die richtige Lösung dieser Aufgabe ergibt **3 Punkte**

Blatt B – Tarif

In der Zone I steigt eine Person in Ihr Taxi und will in die Zone II, um dort Freunde zu holen um dann wieder in das Tarifgebiet der Zone I zurückzufahren. Bei der Abfahrt in der Zone I schalten oder belassen Sie Ihre Uhr auf

Tarif _____

An der Grenze zur Zone II schalten oder belassen Sie Ihre Uhr auf

Tarif _____

Am vorläufigen Ziel steigt Ihr Fahrgast aus und lässt sie 15 Minuten warten; während dieser Zeit schalten oder belassen Sie Ihre Uhr auf

Tarif _____

Ihr Fahrgast kommt mit seinen beiden Freunden zurück und gibt Ihnen den Auftrag, in die Zone I zurückzufahren. Bei der Abfahrt schalten oder belassen Sie Ihre Uhr auf

Tarif _____

An der Grenze zur Zone II schalten oder belassen Sie Ihre Uhr auf

Tarif _____

Die richtige Lösung dieser Aufgabe ergibt **5 Punkte**

Blatt B – Tarifgrenzen

Wo überfahren Sie im Verlauf der **B 304 (München – Moosach – Dachau)** die Tarifgrenze?

An der Münchener Ortstafel in Höhe des Würmkanals	0
In der Höhe der Bundesstraße 471	0
In Höhe der Bahnhofstraße in Dachau	0

Wo überfahren Sie im Verlauf der **B 11 (München – Sendling – Wolfratshausen)** die Tarifgrenze?

Unmittelbar südlich des Klosters St. Gabriel	0
An der Abzweigung nach Grünwald	0
An der Ortsgrenze zwischen Höllriegelskreuth und Buchenhain	0

Wo überfahren Sie im Verlauf der **Staatsstraße 2072 (München – Harlaching – Bad Tölz)** die Tarifgrenze?

An der Eisenbahnunterführung in der Geisalgasteigstraße	0
In Höhe des Bavaria-Film-Platzes in Geisalgasteig	0
Am südlichen Ortsrand der Gemeinde Grünwald in Höhe des Waldfriedhofs	0

Die richtige Lösung dieser Aufgabe ergibt **3 Punkte**

Blatt C – Adressen

Nachfolgende Fragen sind durch die Angabe der jeweiligen Adresse bzw. des Hauptzuganges ohne Hausnummer zu beantworten. Wo befinden sich im Stadtbereich München folgende

Museen, Ausstellungen und Sehenswürdigkeiten

Museum Mensch und Natur _____

Asamkirche _____

Israelitische Kultusgemeinde _____

Obelisk _____

Schatzkammer der Residenz _____

Behörden und Ämter

Bayerischer Landtag _____

Oberfinanzdirektion _____

Polizeiinspektion 44 Moosach _____

Familiengericht _____

Staatsministerium f. Arbeit und
Sozialordnung Familie und Frauen _____

Polizeiinspektion 14 Milbertshofen _____

Polizeiinspektion 45 Pasing _____

Handwerkskammer _____

Standesamt München _____

Städtisches Gesundheitsamt _____

Krankenhäuser, Kliniken und Altenheime

Universitäts Kinder & Poliklinik
im Hauerschen Kinderspital _____

Orthopädische Klinik Harlaching _____

Chirurgische Klinik der LMU _____

Altenheim Hans-Sieber-Haus _____

Dr. Geisenhofer _____

Altenheim Münchener Bürgerheim _____

Marias Theresia Klinik _____

Georg-Brauchle-Altenheim _____

Theater, Konzertsäle und Schulen

Konzertsaal der Hochschule für Musik _____

Nationalmuseum _____

Goethe Institut _____

Herkulesaal der Residenz _____

Bayer. Landesschule für Blinde _____

Gaststätten

Leiberheim _____

Bogenhausener Hof _____

Haxnbauer _____

Max-Emanuel-Brauerei _____

Pfälzer Weinprobierstuben _____

Sollner Hof _____

Firmen (Geschäftsleitung)

Lufthansa _____

Bayerische Landesbank _____

Motorola _____

MAHAG _____

Hypo Haus _____

Osram _____

BMW _____

Hotels

Vitalis _____

Renaissance _____

Stadt Rosenheim _____

Arabella Sheraton Grand _____

Arabella Sheraton Westpark _____

Maria _____

International _____

4 you Jugendgästehaus _____

Die richtige Lösung dieser Aufgabe ergibt **49 Punkte**